
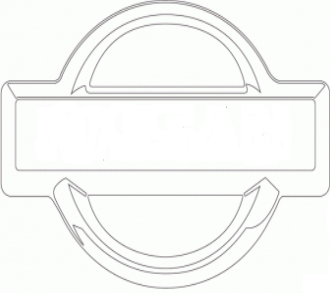
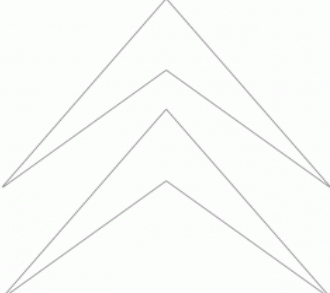






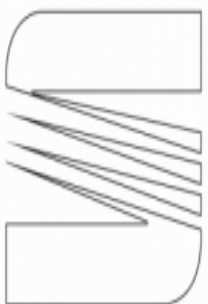





MARCAS DE AUTOMÓVILES



¿Conoces las marcas de los fabricantes de coches?
Calcula las divisiones y el resto te dará la solución según la clave.

 $7487 \overline{)23}$ Soy un _____	 $20014 \overline{)46}$ Soy un _____	 $36720 \overline{)52}$ Soy un _____	 $29341 \overline{)36}$ Soy un _____
 $24213 \overline{)26}$ Soy un _____	 $25755 \overline{)95}$ Soy un _____	 $37400 \overline{)46}$ Soy un _____	 $26682 \overline{)78}$ Soy un _____
 $31181 \overline{)34}$ Soy un _____	 $22006 \overline{)83}$ Soy un _____	 $49786 \overline{)67}$ Soy un _____	 $26789 \overline{)52}$ Soy un _____

CLAVE: Si el resto de las divisiones te da:

- | | | | |
|---------------------|------------------|-------------------|-------------------|
| 1. Es un BMW | 4. Es un Citroën | 7. Es un Renault | 10. Es un Hyundai |
| 2. Es un Volkswagen | 5. Es un Toyota | 8. Es un Mercedes | 11. Es un Audi |
| 3. Es un Seat | 6. Es un Peugeot | 9. Es un Opel | 12. Es un Nissan |