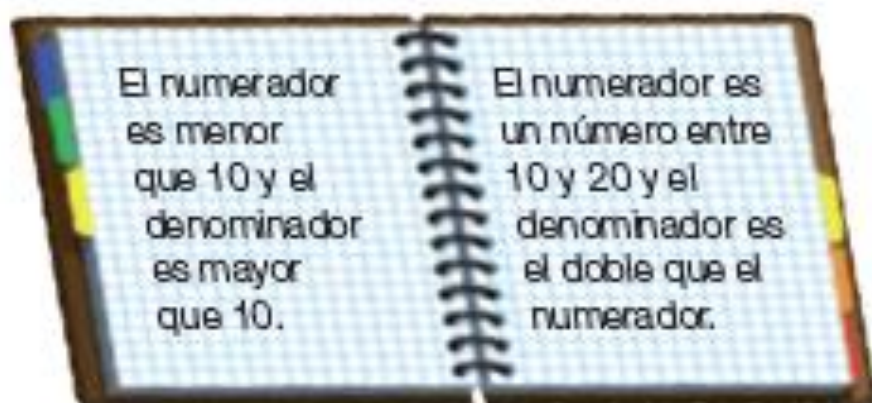


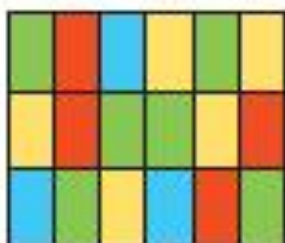
1 Escribe cómo se lee cada fracción.

■ $\frac{5}{6}$ ■ $\frac{4}{9}$ ■ $\frac{7}{11}$ ■ $\frac{8}{15}$ ■ $\frac{10}{17}$ ■ $\frac{6}{20}$ ■ $\frac{14}{28}$ ■ $\frac{23}{32}$

2 Escribe en cada caso dos fracciones.
Después, escribe cómo se leen.




3 Escribe en tu cuaderno qué fracción de la figura está pintada de cada color. Después, piensa y contesta.



- ¿Qué término coincide en las cuatro fracciones? ¿Por qué?
- ¿Con qué número coincide la suma de los numeradores? ¿Por qué?

4 Copia en tu cuaderno, colorea y contesta.



$\frac{3}{8}$ de la figura son rojos,
 $\frac{4}{8}$ son azules y el resto es verde.

- ¿Qué fracción de la figura es verde?