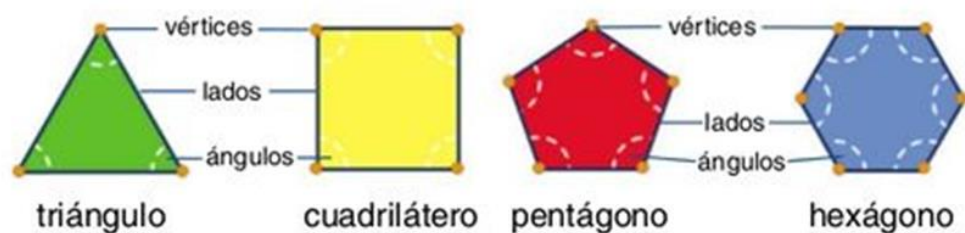
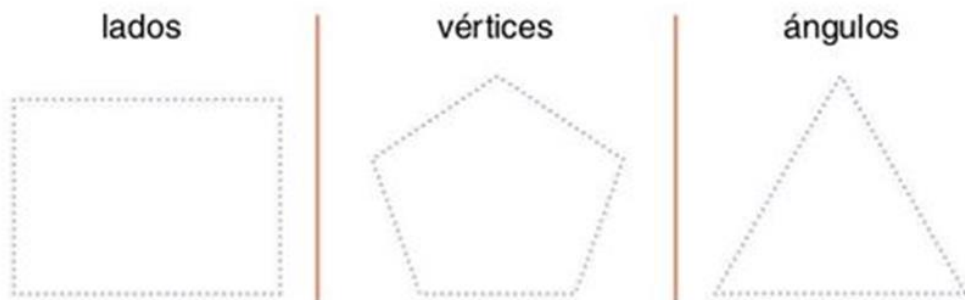


Elementos de los polígonos

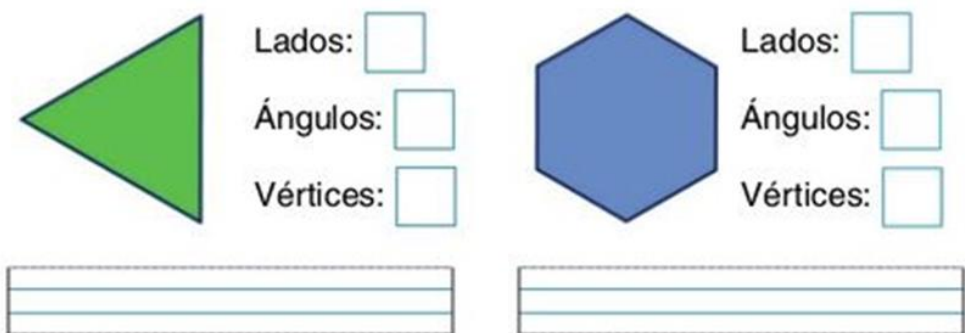
Aprende.



Repasa y señala en cada figura lo que se indica.



Escribe los nombres de cada figura y completa.



Continúa la serie.



Una cada figura con la etiqueta que le corresponde.



6 lados, 6 ángulos y 6 vértices



4 lados, 4 ángulos y 4 vértices






5 lados, 5 ángulos y 5 vértices



3 lados, 3 ángulos y 3 vértices

Completa.

El  tiene lados y vértices.

El  tiene  y .

El  tiene  y .

El  tiene  y .