


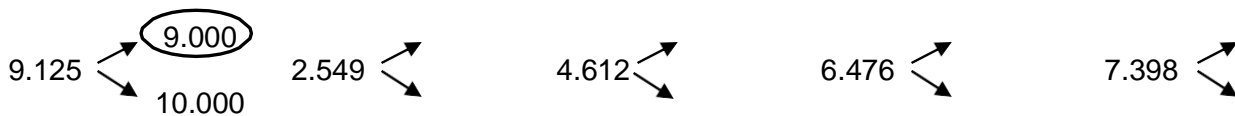
1. Escribe cuántas unidades representan las cifras en negrita.

4.369 **37.219** **5.973** **3.205** **62.854**
 ▼ ▼ ▼ ▼ ▼

2. Ordena estos números de menor a mayor, utilizando los signos > y <.




3. Escribe entre que millares están estos números y rodea el más próximo, como en el ejemplo.




4. Completa la tabla aproximando estas cifras como en el ejemplo.

| | 5.328 | 5.432 | 5.218 | 5.674 | 5.896 |
|---------------------|-------|-------|-------|-------|-------|
| centena más próxima | 5.300 | | | | |
| millar más próximo | 5.000 | | | | |


5. Aproxima la cantidad de castañas al millar más próximo.



6. Completa esta series.



7. Escribe los números anterior y posterior de cada uno.



8. Coloca los números en los círculos de forma que al multiplicar los tres números de cada lado el resultado sea siempre 24.

