
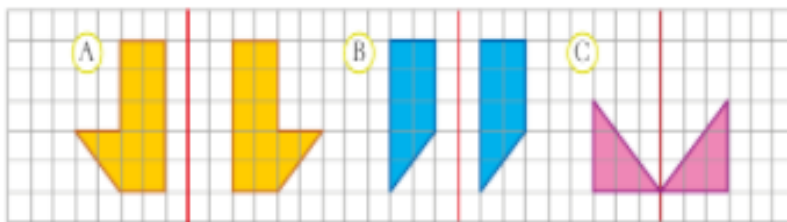


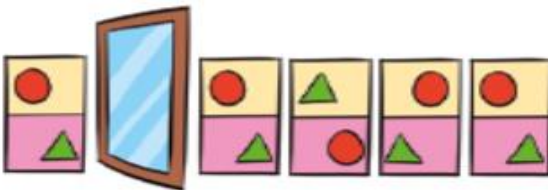
1. Encuentra en que hueco de la pared encajan los ladrillos que tiene José.



2. ¿En qué casos la figura es simétrica respecto del eje rojo?



3. ¿Cuál es el rectángulo que obtendrá Cristina cuando lo coloque frente al espejo?



4. Copia y repita la casa girándola 2 veces 90° en torno al centro de giro.

